



Miskolc - Szirmai Református Általános Iskola, AMI és Óvoda
OM 201802

e-mail: refiskola.szirma@gmail.com

3521 Miskolc, Miskolci u. 38/a. Titkárság: 46/405-124, Gazdasági: 46/404-261

„Környezetismeret-környezetvédelem” országos csapatverseny

3. osztály

2024/25. tanév - III. levelezős forduló

Iskola neve: _____

Csapat neve: _____

Csapattagok nevei: _____

A feladatsor iskolánkba történő beérkezésének határideje: 2025. március 21.

A fordulóban elérhető pontszám: 98 pont

A III. levelezős forduló feladatainak megoldásához az első fordulóval együtt a mellékletben küldött felkészülési anyagot ajánljuk.

A megoldott feladatsort nyomtassátok ki, oldjátok meg, majd a tanulók által kézzel kitöltött feladatsort postai úton iskolánk címére küldjétek el:

Miskolc-Szirmai Református Általános Iskola, AMI és Óvoda

3521 Miskolc, Miskolci út 38/a.

KÖRNYEZETVERSENY 3. FORDULÓ FELADATSORA

1. Válaszolj a következő kérdésekre!

- Melyik két bolygó játszik földrészünkön fontos szerepet az idő múlásában?

- A Föld mennyi idő alatt fordul meg saját tengelye körül?

- Hogy nevezzük ezt az időtartamot?

- Mi a Föld forgásának a következménye?

- A Föld mennyi idő alatt kerüli meg a Napot?

- Mi a Föld keringésének a következménye?



/12 pont

2. Melyik évszakhhoz tartozik a kért hónap? Írd melléjük azt is, hogy az adott hónap hány napból áll! Hogyan nevezték a régi magyar nyelvben (wikipédia).

| HÓNAP | ÉVSZAK | HÁNY NAPBÓL ÁLL? | RÉGI MAGYAR NEVE |
|----------|--------|------------------|------------------|
| JANUÁR | | | |
| ÁPRILIS | | | |
| JÚNIUS | | | |
| JÚLIUS | | | |
| OKTÓBER | | | |
| DECEMBER | | | |

/18 pont

3. Hány óra van? Egészítsd ki az azonos időpontok eltérő elnevezését!

| | |
|---|---|
|  |  |
| 6:00 | |
| 7:30 | |
| | 21:15 |
| 8:45 | |
| | 22:00 |
| 12:00 | |
| | 23:20 |
| | 17:30 |

/8 pont

4. Melyik évszakban mit eszünk? Kösd össze az évszakokat a jellemző ételekkel!

| | |
|--------|---|
| TAVASZ | görögdinnye, cukkini, paprika, paradicsom |
| NYÁR | alma, körte, szőlő, dió, sütőtök |
| ŐSZ | káposzta, burgonya, cékla, alma |
| TÉL | rettek, újhagyma, spenót, eper |

/4 pont

5. Az emberi életkor melyik szakaszára jellemzők a következő állítások?

| | |
|--|-------|
| Megtanulnak írni, olvasni és számolni. | _____ |
| Sok változás történik a testükben és a gondolkodásukban. | _____ |
| Sokat játszanak és gyorsan tanulnak. | _____ |
| Sok tapasztalattal rendelkeznek, és bölcssek lehetnek. | _____ |
| Dolgozni járnak, családot alapíthatnak. | _____ |
| Sírással fejezik ki, ha éhesek vagy fáradtak. | _____ |

/6 pont

6. Igaz, vagy Hamis?

- Minden rovar egyből kifejlett alakban kel ki a petéből. _____
- A pillangók lárva alakja a hernyó. _____
- A szöcske teljes átalakulással fejlődik, mint a pillangó. _____
- Az ebihalaknak nincs lábuk, hanem farkuk van. _____
- A halak ikrákból kelnek ki. _____
- A kifejlett halak a tüdejükkel vesznek levegőt. _____
- A madárfiókák születésük után azonnal tudnak repülni. _____
- A madarak tojásból kelnek ki. _____
- A kis krokodilok szüleik tejével táplálkoznak. _____
- A teknősök és a kígyók tojással szaporodnak. _____
- Az emlősök anyjuk tejével táplálkozik kiskorukban. _____
- Az emlősök mindig tojásból kelnek ki. _____

/12 pont

7. Egynyári-kétnyári? Írjátok be a megfelelő növényeket!



egynyári

| | | |
|--|--|--|
| | | |
| | | |

kétnyári

| | | |
|--|--|--|
| | | |
| | | |

/8 pont

8. Írj három példát évelő növényekre!

/3 pont


9. Tedd megfelelő sorrendbe a folyóvizeket. Írd a számokat a meghatározások elé!

_____ ér _____ patak _____ csermely _____ folyam _____ folyó

/5 pont

10.

Határozd meg, hogy a 😊 a kijelölt ponthoz (X) képest a fő- és mellékvilágtájak szerint milyen irányban van! Válaszod írd a vonalra!

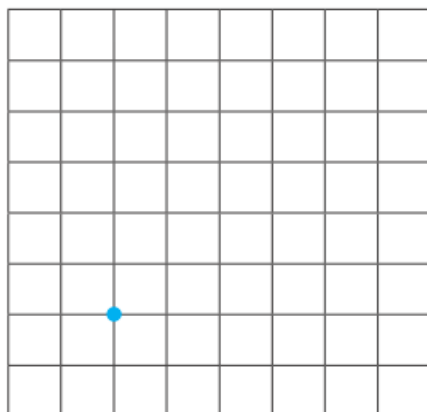


/5 pont

11.

Indulj a kijelölt ponttól, haladj az utasításnak megfelelően!

É



Haladj az utasítások sorrendjében:

- 4 négyzetet északra, onnan
- 2 négyzetet északkeletre, majd
- 2 négyzetet délkeletre, tovább
- 4 négyzetet délre, végül
- 4 négyzetet nyugatra!

Folytasd ezután kedved szerint!

/5+2 pont

12. Keresd a felszíni formákat!

| | | | | | | | | | | | |
|---|---|---|---|---|---|---|---|---|---|---|--|
| G | Ő | F | E | D | S | O | M | Ö | Q | Q | |
| P | W | R | Q | B | Ú | Í | I | K | S | A | |
| Ő | R | M | T | B | Á | É | K | H | F | C | |
| E | Ó | C | E | Á | N | O | K | S | É | Á | |
| B | A | S | Z | I | G | E | T | Í | Á | M | |
| T | A | V | A | K | V | Ö | L | G | Y | G | |
| D | O | M | B | S | Á | G | S | T | Ú | H | |
| W | Á | J | H | E | G | Y | S | É | G | Ü | |
| Y | B | U | L | O | F | O | L | Y | Ó | K | |
| Y | C | B | M | E | D | E | N | C | E | Z | |
| T | W | F | É | L | S | Z | I | G | E | T | |

/10 pont